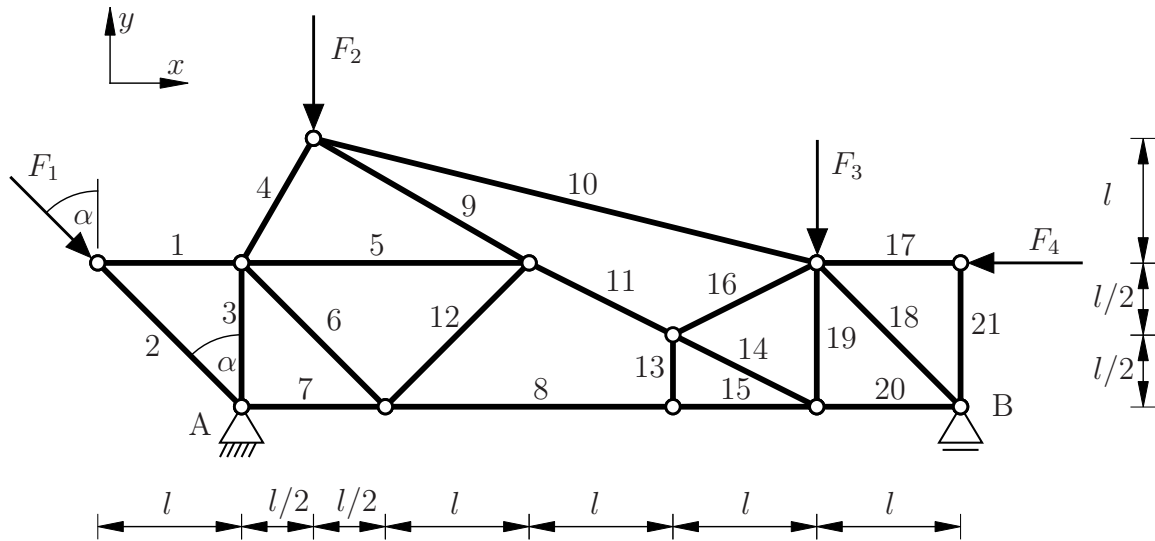


Aufgabe 1 (Seite 1 von 3)

Das hier dargestellte Fachwerk ist in den Punkten A und B gelagert und wird durch die Einzelkräfte F_1, F_2, F_3 und F_4 belastet.



a)

Geben Sie sämtliche Nullstäbe an, welche aufgrund gängiger Kriterien direkt als solche identifiziert werden können (keine Rechnung). **(2,0 Punkte)**

Hinweis: Das Nennen falscher Stabnummern führt zu Punktabzug.

$S_1, S_{13}, S_{16}, S_{21}$

Aufgabe 1 (Seite 2 von 3)

b)

Berechnen Sie die Auflagerreaktionen in den Punkten A und B in Abhängigkeit von F_1, F_2, F_3, F_4 und α bezüglich der durch das vorgegebene Koordinatensystem als positiv definierten Richtungen. **(3,0 Punkte)**

$$A_x = -F_1 \sin(\alpha) + F_4$$

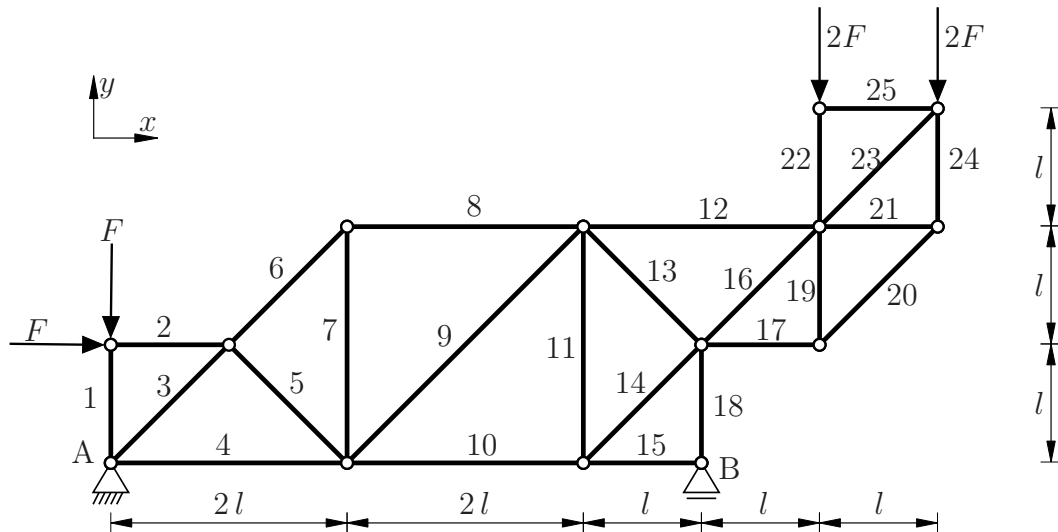
$$A_y = F_1 \cos(\alpha) + \frac{9}{10}F_2 + \frac{1}{5}F_3 + \frac{1}{5}F_4$$

$$B_y = \frac{1}{10}F_2 + \frac{4}{5}F_3 - \frac{1}{5}F_4$$

Aufgabe 1 (Seite 3 von 3)

c)

Das hier dargestellte Fachwerk ist in den Punkten A und B gelagert und wird an den gekennzeichneten Stellen durch die Einzelkräfte F und $2F$ belastet.



Für das Fachwerk ergeben sich daraus die Auflagerreaktionen gemäß den durch das vorgegebene Koordinatensystem als positiv definierten Richtungen zu

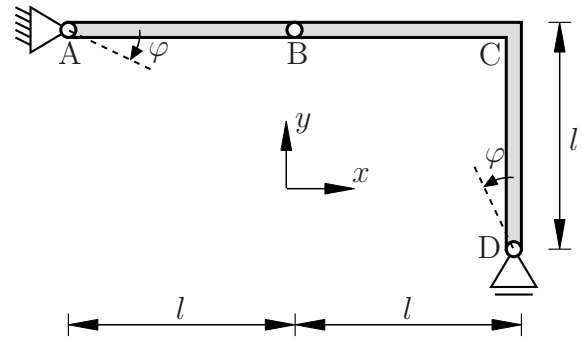
$$A_x = -F \quad , \quad A_y = -\frac{2}{5}F \quad \text{und} \quad B_y = \frac{27}{5}F.$$

Berechnen Sie die Stabkräfte S_8, S_9, S_{10}, S_{20} und S_{21} in Abhängigkeit von F unter Berücksichtigung der Konvention positiver Zugkräfte. **(5,0 Punkte)**

$S_8 = \frac{9}{10}F$	$S_{20} = -\sqrt{2}2F$
$S_9 = \sqrt{2}\frac{7}{5}F$	$S_{21} = 2F$
$S_{10} = -\frac{23}{10}F$	

Aufgabe 2 (Seite 1 von 4)

Das nebenstehend dargestellte Tragwerk besteht aus einem starren Rahmen und einem starren Balken. Der Freiheitsgrad des Systems ist unter Berücksichtigung kleiner Auslenkungen bereits mit φ vorgegeben. Sämtliche Abmessungen sind der Zeichnung zu entnehmen.



a)

Geben Sie die virtuellen Verrückungen an den Punkten B, C und D in Bezug auf das gegebene x - y -Koordinatensystem und der virtuellen Verdrehung $\delta\varphi$ unter Voraussetzung kleiner Auslenkungen aus der dargestellten Lage ($\varphi = 0$) an. **(1,5 Punkte)**

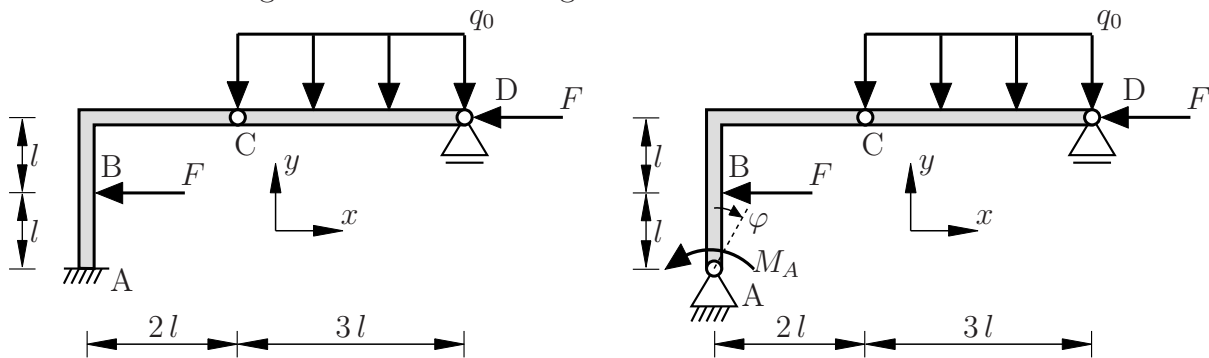
$$\delta \mathbf{r}_B = 0 \mathbf{e}_x - l \delta\varphi \mathbf{e}_y$$

$$\delta \mathbf{r}_C = 0 \mathbf{e}_x + 0 \mathbf{e}_y$$

$$\delta \mathbf{r}_D = l \delta\varphi \mathbf{e}_x + 0 \mathbf{e}_y$$

Aufgabe 2 (Seite 2 von 4)

Das unten dargestellte Tragwerk besteht aus einem starren Rahmen und einem starren Balken. Das Originalsystem (linkes Bild) weist in Punkt A eine Einspannung auf. Diese ist im modifizierten System (rechts Bild) bereits durch ein Festlager und ein wirkendes Moment M_A ersetzt worden. Weiterhin ist dort der Freiheitsgrad φ eingeführt worden. Sämtliche Abmessungen sind der Zeichnung zu entnehmen.



b)

Geben Sie die virtuelle Arbeit $\delta W(\delta\varphi)$ in Bezug auf den Freiheitsgrad φ und das vorgegebene x - y -Koordinatensystem an. Dabei seien die virtuellen Verrückungen als

$$\delta \mathbf{r}_B = \delta\varphi l \mathbf{e}_x \quad \delta \mathbf{r}_C = \delta\varphi l \mathbf{e}_x - \delta\varphi l \mathbf{e}_y \quad \delta \mathbf{r}_D = 2 \delta\varphi l \mathbf{e}_x .$$

gegeben. Bestimmen Sie das Moment M_A , das im Punkt A im statischen Gleichgewichtszustand wirkt. **(2,5 Punkte)**

$$\delta W(\delta\varphi) = \left[\frac{3}{2} q_0 l^2 - 3 F l - M_A \right] \delta\varphi$$

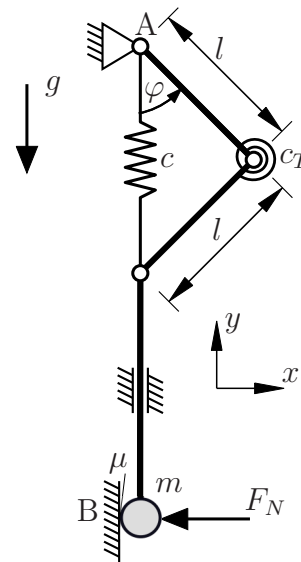
$$M_A = \frac{3}{2} q_0 l^2 - 3 F l$$

Welchen Wert muss q_0 annehmen, damit das Moment M_A zur Erhaltung des statischen Gleichgewichts nicht nötig ist? **(0,5 Punkte)**

$$q_0 = \frac{2F}{l}$$

Aufgabe 2 (Seite 3 von 4)

Das nebenstehend dargestellte System befindet sich im Schwerfeld (Beschleunigung g). Es besteht aus drei masselosen Stäben, einer Zugfeder (Federsteifigkeit c), einer Drehfeder (Drehfedersteifigkeit c_T) und einer Masse m . Im Ausgangszustand ($\varphi(t = 0) = 45^\circ$) sind beide Federn ungespannt. An der Kontaktstelle zwischen Masse und Wand (Punkt B) wirkt der Reibkoeffizient $\mu > 0$ sowie eine Normalkraft F_N .



c)

Geben Sie ein Gesamtpotential des Systems $\Pi(\varphi)$ in Abhängigkeit des Freiheitsgrades φ an. Nehmen Sie dafür $F_N = 0$ an. **(3,0 Punkte)**

$$\Pi(\varphi) = 2c_T \left[\varphi - \frac{\pi}{4} \right]^2 + \frac{1}{2}c l^2 \left[\sqrt{2} - 2 \cos(\varphi) \right]^2 - 2mgl \cos(\varphi)$$

d)

Nun wirkt eine Normalkraft $F_N > 0$ gemäß der Zeichnung in Punkt B. Ist die Gleichgewichtsbedingung weiterhin durch ein Potential bestimmbar? Begründen Sie Ihre Antwort. **(1,0 Punkte)**

Aufgrund der nun wirkenden Normalkraft $F_N > 0$ ist das System am Punkt B nun reibungsbehaftet. Daher ist die Gleichgewichtsbedingung nicht mehr über ein Potential bestimmbar.

TU Dortmund

Fakultät Maschinenbau

Institut für Mechanik

Prof. Dr.-Ing. A. Menzel

Prof. Dr.-Ing. J. Mosler

Vorname: _____

Nachname: _____

Matr.-Nr.: _____

Aufgabe 2 (Seite 4 von 4)

e)

Für ein anderes System ist das Gesamtpotential zu

$$\tilde{H}(\varphi) = \frac{1}{2} c_T \varphi^2 + 2 m g l \sin(2 \varphi) + \frac{1}{2} c \sin^2(\varphi) l^2$$

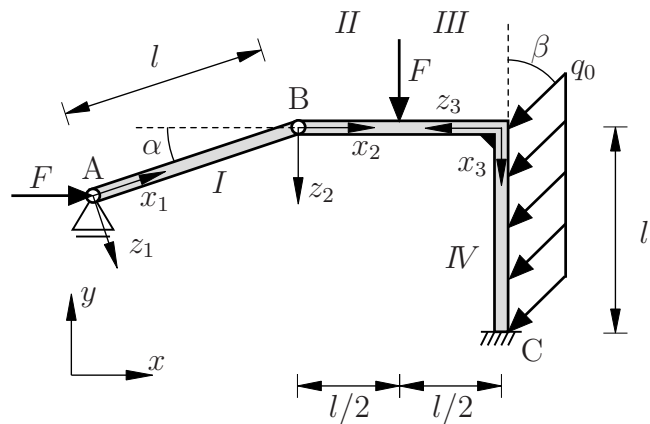
bestimmt worden. Geben Sie die spezifische Gleichgewichtsbedingung für dieses System bezüglich des Freiheitsgrades φ an. **(1,5 Punkte)**

$$\frac{\partial \tilde{H}}{\partial \varphi} = c_T \varphi + 4 m g l \cos(2 \varphi) + c l^2 \sin(\varphi) \cos(\varphi) = 0$$

Aufgabe 3 (Seite 1 von 3)

a)

Das nebenstehende System besteht aus einem Rahmen und einem gelenkig verbundenen Balken. Die **Auflagerreaktionen** in Bezug auf die durch das x, y -Koordinatensystem als positiv definierten Koordinatenrichtungen sind mit A_y , C_x , C_y und M_C bereits **gegeben**.



Geben Sie die Funktionen der Normalkraft in den ausgewählten Bereichen an.

(1,5 Punkte)

$$N_{II}(x_2) = -F$$

$$N_{IV}(x_3) = A_y - F - q_0 x_3 \cos(\beta) = -C_y + q_0 [l - x_3] \cos(\beta)$$

Geben Sie die Funktionen des Biegemoments in den ausgewählten Bereichen an.

(3,0 Punkte)

$$M_I(x_1) = -F \sin(\alpha) x_1 + A_y \cos(\alpha) x_1$$

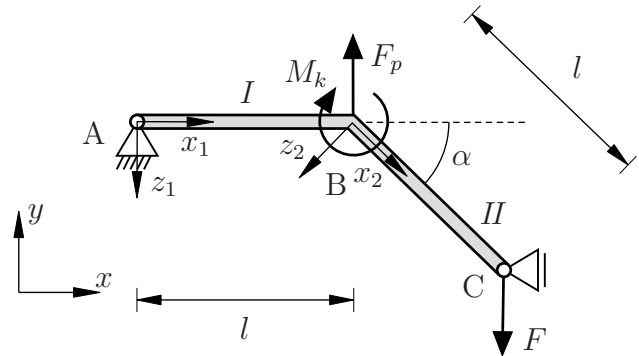
$$M_{II}(x_2) = A_y x_2$$

$$M_{IV}(x_3) = A_y l - F \frac{l}{2} + F x_3 - q_0 \frac{x_3^2}{2} \sin(\beta) = M_C + C_x [l - x_3] - q_0 \frac{[l - x_3]^2}{2} \sin(\beta)$$

Aufgabe 3 (Seite 2 von 3)

b)

Im Folgenden soll das nebenstehende System betrachtet werden. Der abgewinkelte Rahmen ist durch die Kräfte F und F_p , sowie das Moment M_k belastet.



Geben Sie für den abgewinkelten Rahmen die Bedingungen zwischen den Schnittgrößen N , Q und M am Übergang zwischen Bereich I und II in Punkt B an. **(2,5 Punkte)**

$$N_I = N_{II} \cos(\alpha) - Q_{II} \sin(\alpha)$$

$$Q_I = N_{II} \sin(\alpha) + Q_{II} \cos(\alpha) - F_p$$

$$M_I = M_{II} - M_k$$

Aufgabe 3 (Seite 3 von 3)

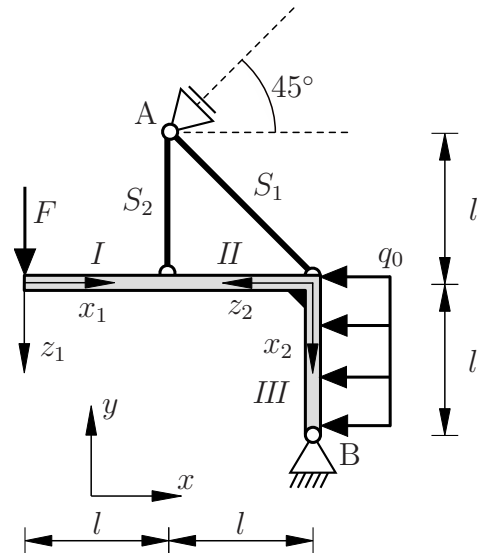
c)

Das nebenstehende System besteht aus einem abgewinkelten Rahmen und zwei Pendelstützen. Zwischen der aufgeprägten Streckenlast und der Einzellast gilt das Verhältnis $F = 2 q_0 l$. Die Lagerreaktionen, bezogen auf die positiven Koordinatenrichtungen des x, y -Koordinatensystems, sind wie folgt bestimmt

$$A = \frac{3}{\sqrt{2}} q_0 l,$$

$$B_x = -\frac{1}{2} q_0 l,$$

$$B_y = \frac{1}{2} q_0 l.$$



Geben Sie qualitativ den Verlauf des Biegemoments für den abgewinkelten Rahmen an. Ergänzen Sie Ihre Skizze um charakteristische Werte an den Rand- und Übergangsbereichen. Geben Sie zusätzlich für jeden Abschnitt den Polynomgrad p der entsprechenden Funktion an. **(3,0 Punkte)**

